

Náttúra og tøkni

45 minuttir



Tjaldursgrælingar. Mynd frá www.skulin.fo

Navn: _____	Flokkur: _____
Skúli: _____	Lærari: _____

Svarini verða skrivað á uppgávuarkið. Um tað er ein uppgáva, sum tú ikki dugir, far so víðari. Tú kanst skriva við blýanti.

1.

Føroyar

Set striku til røttu oynna:

Mikines

Svínoy

Koltur

Viðoy

Sandoy

Hestur

Streymoy

Suðuroy

Stóra Dímun

Eysturoy



2.

Norðurlond

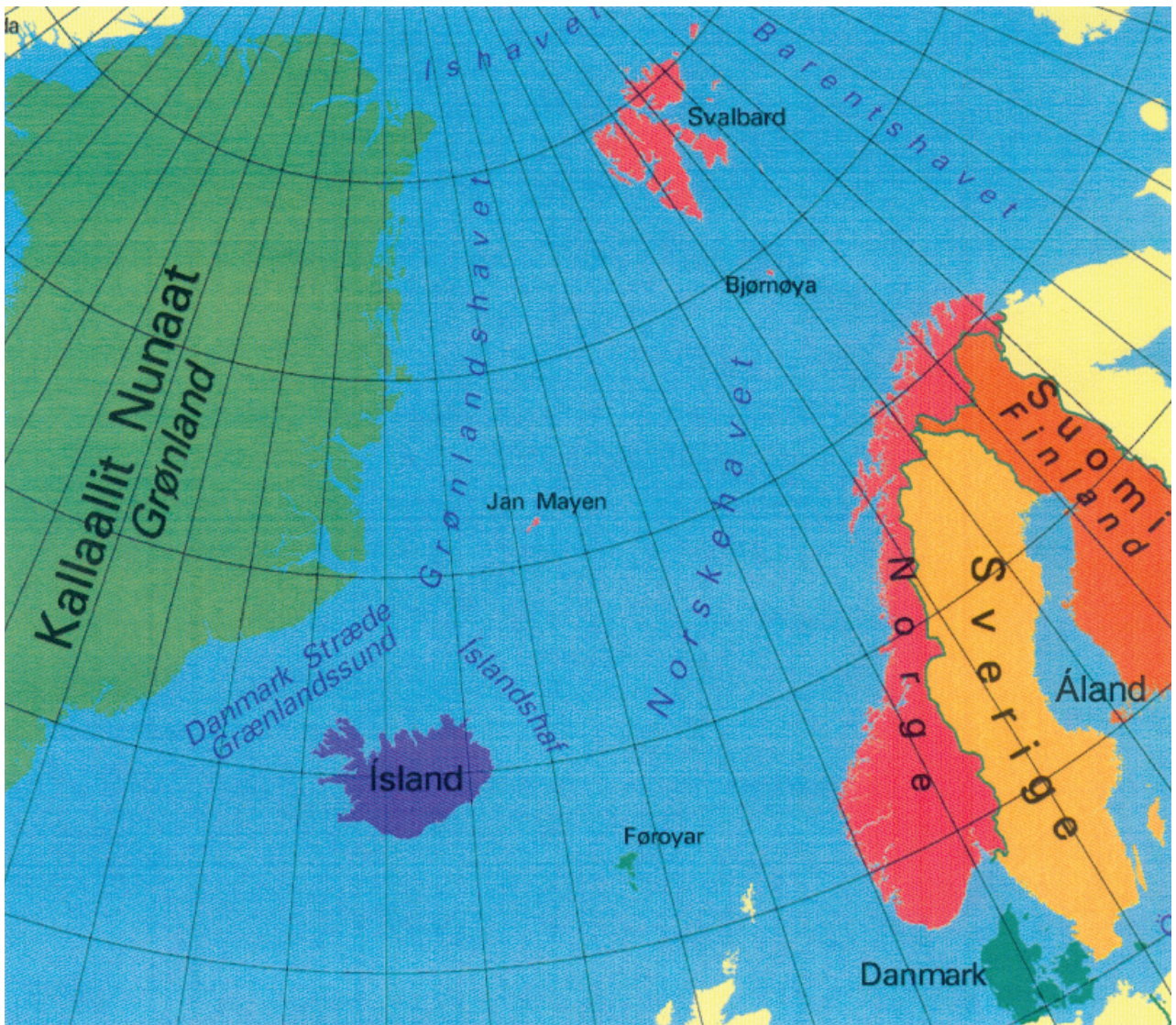
Set striku frá hövuðsstaði til landið.

Helsinki

Stockholm

Mariehamn

Tórshavn



Keypmannahavn

Nuuk

Oslo

Reykjavík

3.


Fuglar

Støðufuglur er altíð í Føroyum. Flytifuglur er í øðrum londum um veturin.

Set ring um flytifuglarnar.



Stari



Spógvi




Likka




Tjaldur




Kráka



Terna



Dunna



Spurvur



Lógv

4. Nakrir fuglar eru rovfuglar, aðrir ikki. Set striku ímillum mynd og kassa.



Ravnur



Likka



Tjaldur

Ikki rovfuglur

Rovfuglur



Mýrisnípa



Smyril



Steinstólpa

Myndir úr: "Fuglar í Føroyum".

5.

Smákykt

Tekna strikur ímillum myndina og rætta navnið.



Skolopendari

Torvatröll

Svartaklukka

Skinfluga

Eiturkoppur

Tvísterta

Veingjarguli

Reyðmaðkur

6.

Dýr í fjøruni

Tekna strikur ímillum myndina og rætta navnið.



Igulker

Krossfiskur

Toppkúvingur

Krutt ella ulka

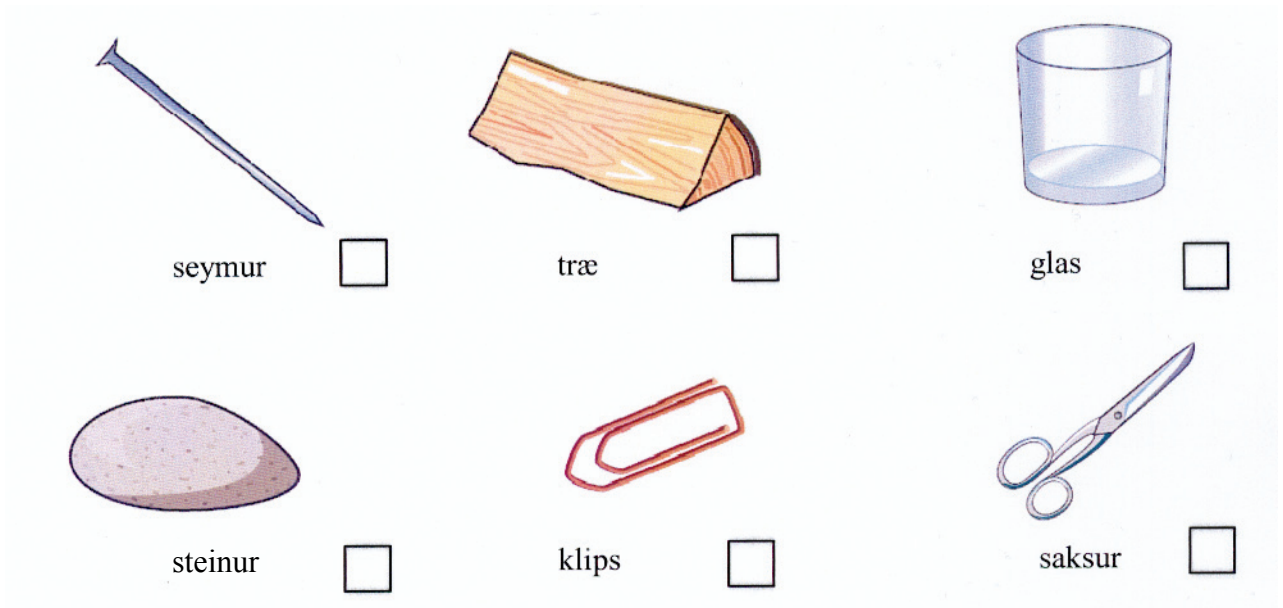
Fjørukurabbi

Tarabrosma


Agngágga

Lúsakrabbi


7. Hvörjir av hesum lutum leiða streym?



8. Ver varin, tá ið tú arbeiðir við el-lutum
Set ring um 3 støð, sum eru vandamikil.



9. Set leiðningar ímillum, so klokkann ringir og peran lýsir.



10. Oyrni tola ikki alt ljóð.
Hvat er mest skaðiligt fyri oyrað. Set kross í kassan.



Tyrla, sum flýgur


i-pod, sum er hart frá

miksari, sum er frá

telefon, sum ringir

Tekningar: Sólgerð Andreassen

11.



Hvat hendir við vatninum, tá sólin hevur skinið í einar 4 tímar?
Set X við tað rætta:

- a. Skálirnar A og B eru tómar
- b. Einki hendir
- c. Skálin A er tóm

12. Litbland

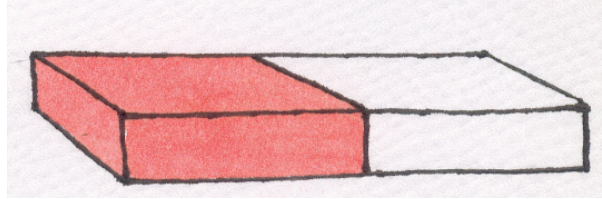
Hvønn lit fáa vit, um vit blanda:

- a. blátt og gult _____
- b. reytt og gult _____
- c. blátt og reytt _____

13.

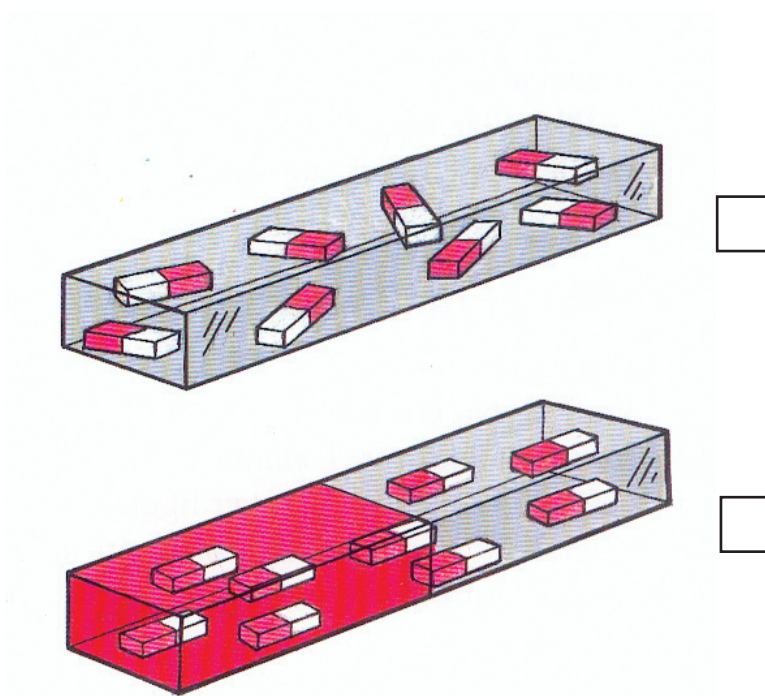
Magnetir

Set S við suðurpól og N við norðpól.



Tekning: Sólgerð Andreassen.



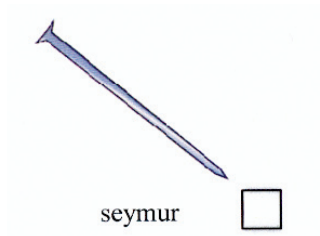
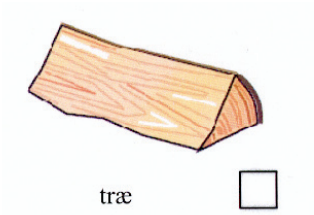
14. Her eru 2 jarnpetti. Set kross við magnetina.



15. Hvussu sært tú, at annað jarnpettið er ein magnet?

Mynd úr: "Náttúra og tøkni 1", Føroya Skúlabókagrunnur.

16. Set kross við teir lutir, sum magnetin klárar at draga til sín.



17. Hvussu eita ættirnar. Set nøvn í kassarnar.

