

Náttúra og tøkni

60 minuttir



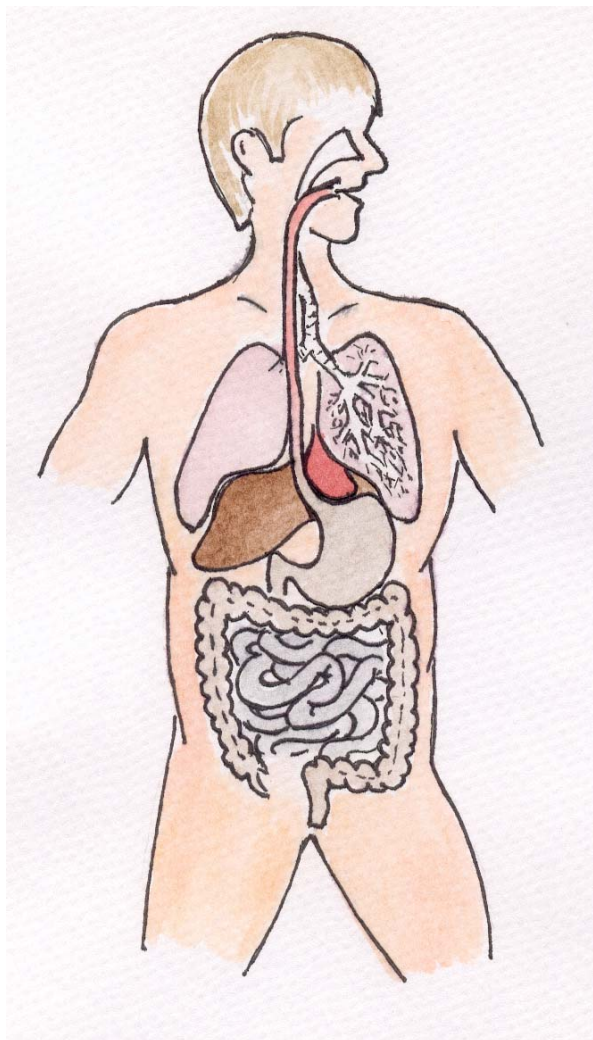
Mýrisnípuungi. Mynd: Regin Ellingsgaard

Navn: _____	Flokkur: _____
Skúli: _____	Lærari: _____

Svarini verða skrivað á uppgávuarkið. Um tað er ein uppgáva, sum tú ikki dugir, far so víðari. Tú kanst skriva við blýanti.

Mannakroppurinn

Set striku til røttu gøgnini.



Magi

Tarmar

Hjarta

Lunga

Livur

Hvørt av hesum gögnum hevur sína uppgávu. Vel trý av omanfyri nevndu gögnum og greið frá, hvørja uppgávu tey hava.

1. _____


2. _____

3. _____

Matpakkin


Ein góður og sunnur matpakki hevur týðning fyri teg.

Legg sunnan mat í matpakkan. Set striku til matpakkan.



Plantur

Vit býta eina plantu í 4 høvuðspartar:
Set strikur millum orð og mynd:



Blað

Leggur

Rót

Blóma

Hvørja uppgávu hevur:

1. Blóman _____

2. Leggur _____

3. Blað _____

4. Rót _____

Skriva navnið á plantuni:











Súgdjór

1. Hvat hava øll súgdjór til felags, í mun til onnur djór?

2. Hvalur er býttur í tveir høvuðsbólkar, hvørjar?

3. Hvør er høvuðsføðin hjá grindahvali?

4. Hvussu veit hvalur, hvat er frammanfyri?

5. Nær eru flestar grindir í Føroyum? Set kross við.

Vár

Summar

Heyst

Vetur

6. Hvat tól verður sett á hval, tá ið vit kanna, hvar hann svimur, kavur o.a.?

7. Nevn fyra hvalasløg

8. Tvey kópasløg halda til í Føroyum, hvørji eru tey?

9. Bara annar leggur í Føroyum, hvør?

Fiskivinna

Hesi skip eru í føroyska fiskiflotanum. Hvat slag eru tey?

Set striku ímillum orð og mynd.

Nótaskip


Trolari

Línuskip



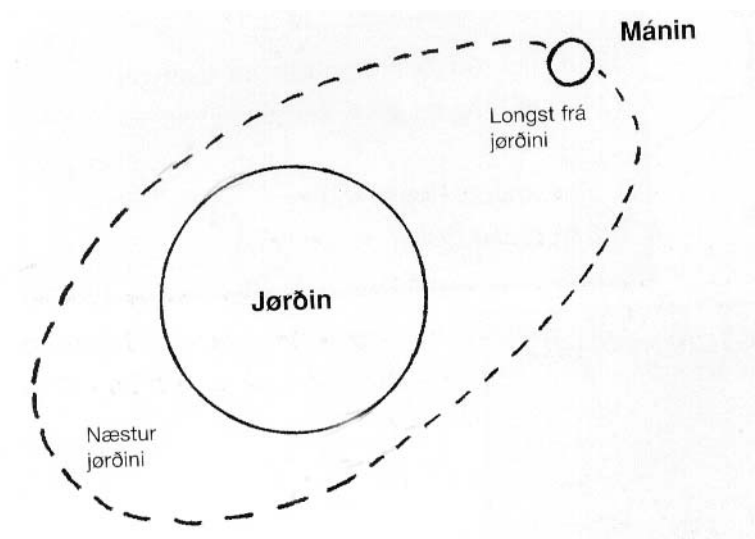
Myndir úr bókini "Náttúra og tøkni 3", Føroya Skúlabókagrunnur.

Set navn á



Myndir úr bókini "Náttúra og tøkni 3", Arbeidsbók, Føroya Skúlabókagrunnur.

Jørðin



1. Hvussu leingi tekur tað mánanum at koma einaferð kring jørðina?

2. Hvussu leingi tekur tað jørðini at mala einaferð um seg sjálva?

3. Hvussu leingi tekur tað jørðini at mala einaferð um sólina?

4. Hvat ávirkar havið, so vit fáa flóð og fjøru?

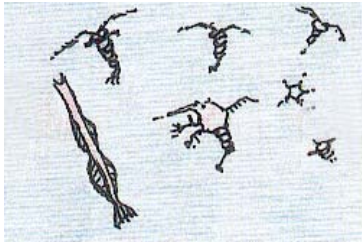
5. Hvussu eitur heiti streymurin kring Føroyar?

6. Hvussu eru Føroyar vorðnar til?


7. Hvat grótslag hava vit mest av í Føroyum?

Føðiketa

Tekna pílar, sum vísa, hvør etur hvønn.




Djóraæti



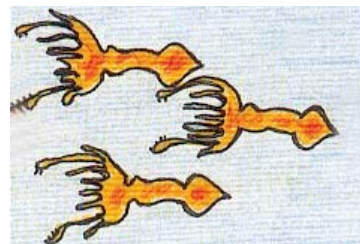
Fiskayngul



Grindahvalur



Algur



Høgguslokkur


Hvør er fyrsti liður í hesi føðiketuni?

Hvør liður er menniskja í eini føðiketuni?

Hvat er ein føðiketa?

Luftrýst

Sólin skínur. Greið frá, hvat pílarin vísa, og hvat hendir á myndini.



Kennir tú ættirnar?

Fótbóltslandsliðið skal í komandi kapping spæla ímóti hesum londum:
Litava, Eysturriki, Rumenia, Fraklandi og Serbia.

Tú skalt ein túr við Atlantsflog at vitja londini. Men fyri at koma á rætt stað, mást tú kenna ættirnar. Norðan er merkt á kortinum.

Fyrst flúgva tit úr Føroyum til Danmarkar.

Hvørja ætt skulu tit fara? _____.

Tit flúgva í ein útnyrðing og koma til _____.

Síðan flúgva tit í ein eystan.

Landið eitur _____.

So fara tit aftur á flog vestureftir.

Landið eitur _____.

So flúgva tit í ein sunnan.

Landið eitur _____.

Áðrenn tit fara heimaftur, verður farið til Danmarkar.

Nú fara tit í ein vestan.

Landið eitur _____.

Hvørja ætt skulu tit flúgva _____.

Heim til Føroyar fara tit í ein _____.



