

Náttúra og tækni

60 minuttir



Mynd: Mýrihoylys og apublómur við árbakkan. skulin.fo. Tikið myndina hefur Gulakur Zachariassen.

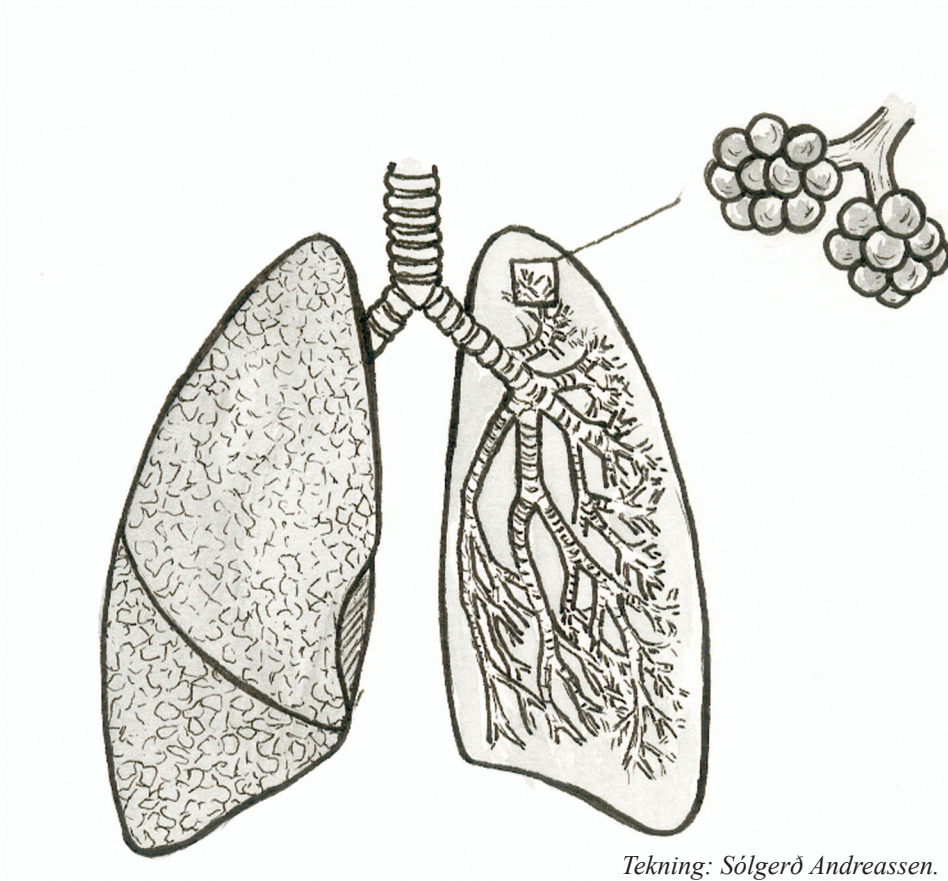
Navn: _____	Flokkur: _____
Skúli: _____	Lærari: _____

Svarini verða skrivað á uppgávuarkið. Um tað er ein uppgáva, sum tú ikki dugir, far so víðari. Tú kanst skriva við blýanti.

1.

Mannakroppurinn

Set striku millum tekst og mynd.



Lunga

Lungnapípa

Lungnabløðra

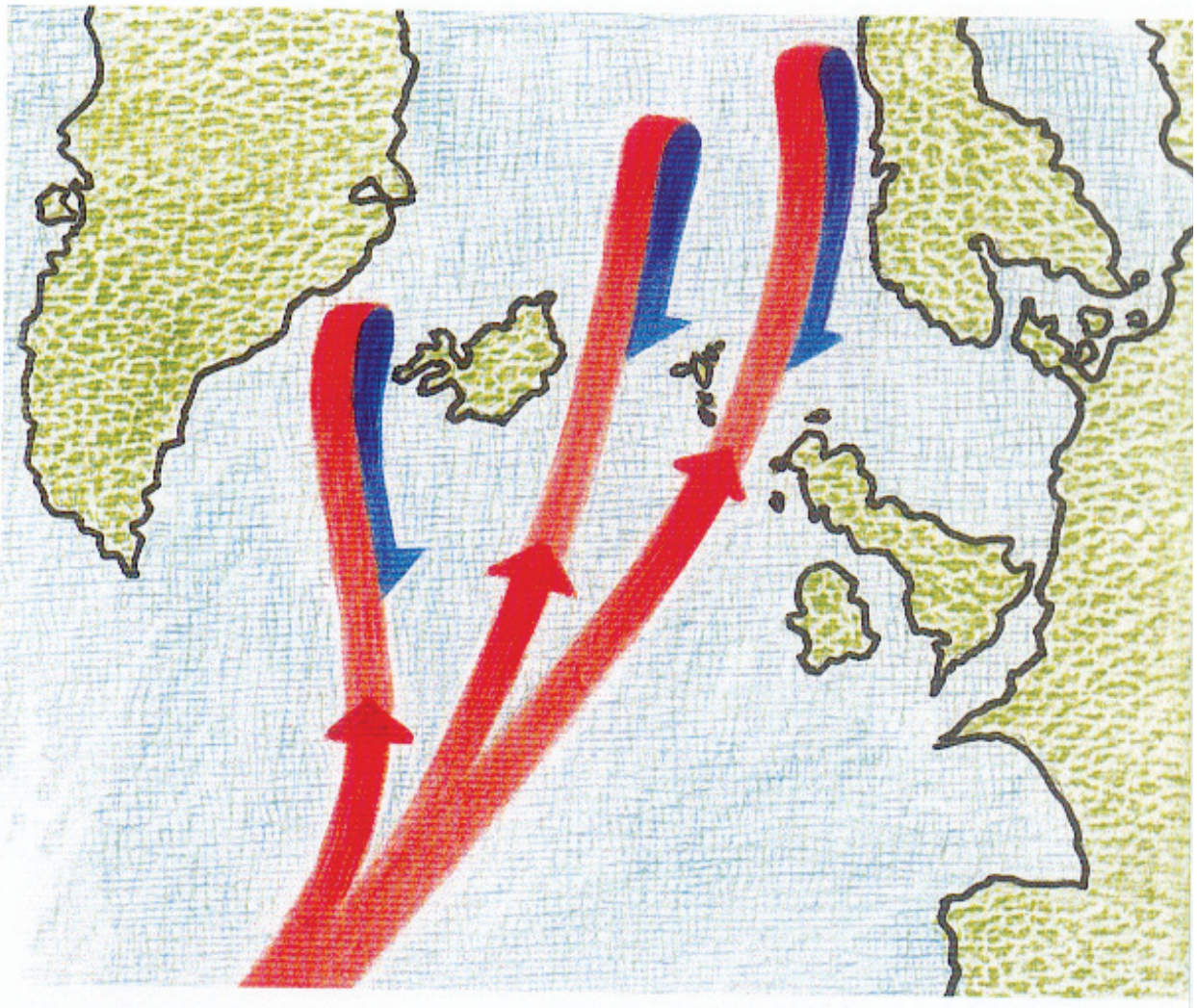
a) Hvussu nógv lungu hava vit? _____

b) Hvussu eita beinini, ið verja lunguni? _____

c) Kroppinum tørvar súrevnið, hvat verður tað brúkt til? _____

2.

Havið



a) Reyðu pílarinir vísa ein havstreym. Hvussu eitur hann ? _____

b) Hvat ímynda reyðu pílarinir ? _____

c) Hvat ímynda bláu pílarinir ? _____

Mynd úr bókini "Náttúra og tøkni 3", Føroya Skúlabókagrunnur.

d) Hvat er tyngri, heitt vatn ella kalt vatn? _____

e) Hvat er tyngri, feskkt vatn ella saltvatn? _____

f) Hvat fyllir meira, heit luft ella køld luft? _____

3. Set x við rætta svarið.

a) **Hvat av hesum kann gera streym og aldur?**

Vindur

Heitt og kalt vatn

Olja

b) **Hvat av hesum ger vind?**

Toran

Hátrýst og lágtrýst

Sól

c) **Hvat ger mjørka?**

Køld luft, sum verður hitað


Heit luft, sum verður køld

Myrkur

4.

Fuglar

Skriva navnið á fuglinum.















Myndir úr: "Fuglar í Føroyum".

5.

Blómur

Set x við rætta svarið.

a) Hvussu eitur tjóðarblóma okkara?

Svínasólja

Iglasólja

Mýrisólja

b) Hvørja uppgávu hevur blóman?

At seta fræ

At vera fœði hjá seyðinum?

At prýða bœin

c) Hvør av hesum pílatrøum er minsti pífur, sum til er?

Loðpífur

Pálmapífur

Urtapífur

d) Hvaðani keypa føroyingar trø at planta?

Úr Íslandi

Úr Eldlandi

Úr Grønlandi

6.

Smákykt

Skriva navnið á smákyktunum.














Mynd úr: "Náttúra og tøkni 3", Føroya Skúlabókagrunnur.


7.

Hvalur

Skriva striku ímillum hval og rætta navnið.



Royður




Kúluboka



Avgustur



Grindahvalur



Hvessingur

Myndir úr: "Villini súgdjór í Útmorði", Dorete Bloch og Edward Fuglø.

8.

Jarðfrøði

a) **Hvat tól mátar jarðskjálvtar?**

Voltmetur

Barometur

Seismografur

b) **Hvat grótslag er í Føroyum?**

Basalt

Granitt

Kálksteinur

c) **Fyri hvussu nógvum árum síðan endaði síðsta ístíðin í Føroyum?**

50000

10000

500

d) **Hvat er ein tsunami?**

Stormur

Jarðskjálvti

Alda

e) **Hvar í Føroyum verður kol høgt?**

Vági

Hvalba

Klaksvík

9.

Atlasuppgávur

Hværjir hövuðsstaðir liggja á hesum støðum.

Dømi : 37 C 3

37 er síðutalið í atlassinum.

18 E 2 _____

19 K 3 _____

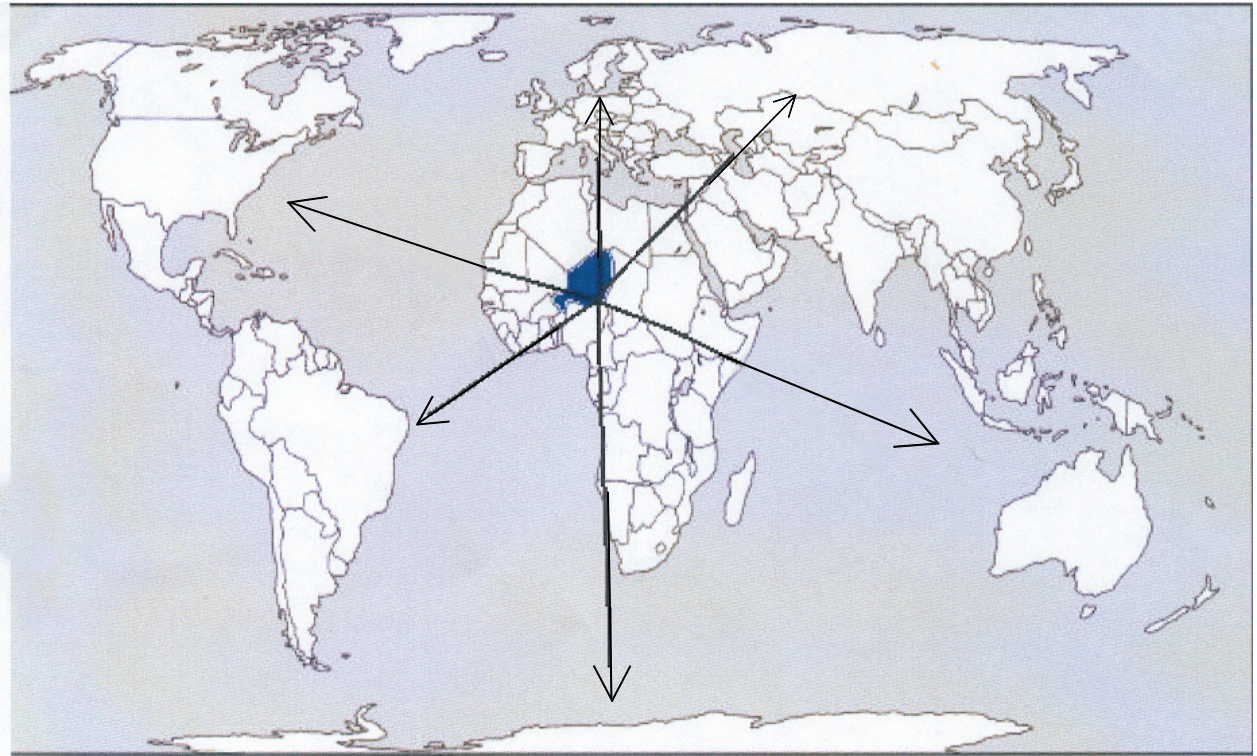
29 P 9 _____

35 H 1 _____

44 E 2 _____

10.

Kennir tú ættirnar og heimspartarnar



Vit eru stödd í Niger í Afríka.

Hvönn heimspart koma vit til, um vit fara í ein:

Norðan _____

Sunnan _____

Landnyrðing _____

Landssynning _____

Útsynning _____

Útnyrðing _____

