

# Náttúra og tækni

60 minuttir



Navn:	Flokkur:
Skúli:	Lærari:

Svarini verða skrifað á uppgávuarkið. Um það er onkur uppgáva, sum tú ikki dugir, far so víðari.

Tú kanst skriva við blýanti.

# Mannakroppurinn

1. Set kross við rætt svar.

a) Hvussu leingi skulu 12 ára gomul helst sova?

6 - 7 tímar

12 - 13 tímar

9 - 10 tímar

b) Hværja ávirkan hevur góður svøvnur á skúladagin?

Tað er lætt at fylgja við

Tað er torført at fylgja við

Tú órógvar í tímunum

c) Hvat er best at eta um morgunin?

Fransbreyð

Cocopops

Groft breyð

d) Hværja ávirkan hevur góður morgunmatur á skúladagin?

Tú orkar illa at fylgja við

Tú orkar betri at fylgja við

Tú orkar einki

e) Hvat er gott at hava við í skúla?

Frukt

Sodavatn

Góðgæti

f) Hvørja ávirkan hevur arbeiðsfriður?

Tú verður troytt/ur

Tú lærur betri

Tú fær illa hugsað

g) Hví er neyðugt við frískari luft í flokshølinum?

Tú orkar betri

Skúlin sparir olju

Tú orkar verri

h) Hví skulu vit íðka ítrótt og hava fríska luft?

Fyri at gerast svong

Fyri at læra verri

Fyri at læra betri

# Fuglar

## 2. Hvussu eita hesir fuglarnir?

1.



a) \_\_\_\_\_



b) \_\_\_\_\_



c) \_\_\_\_\_



d) \_\_\_\_\_



e) \_\_\_\_\_



f) \_\_\_\_\_

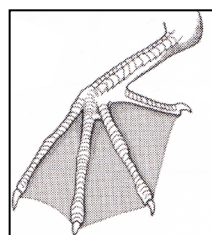
## 2. Nevn 3 flytifuglar.

a) \_\_\_\_\_

b) \_\_\_\_\_

c) \_\_\_\_\_

## 3. Nakrir fuglar hava svimjiføtur, hvussu verða tær nevndar?



\_\_\_\_\_

# Tari

3. 1. Hvussu eitur hesin tarin?



\_\_\_\_\_

2. Hvønn bólk hoyra hesir tararnir til?



Slýleggur

a) \_\_\_\_\_



Reyðblað

b) \_\_\_\_\_



Bløðrutari


c) \_\_\_\_\_

3. Hvør av hesum tarum krevur minst ljós? \_\_\_\_\_


# Fiskivinna

4. 1. Set striku millum skip og navn.


a) Nótaskip



b) Línuskip



c) Trolari



2. a) Hvønn reiðskap brúka trolarar? \_\_\_\_\_

b) Hvønn reiðskap brúka línuskip? \_\_\_\_\_

c) Hvønn reiðskap brúka nótaskip? \_\_\_\_\_


3. Skriva 3 dæmi um reiðskap, sum útróðrabátar kunnu brúka:

a) \_\_\_\_\_

b) \_\_\_\_\_

c) \_\_\_\_\_

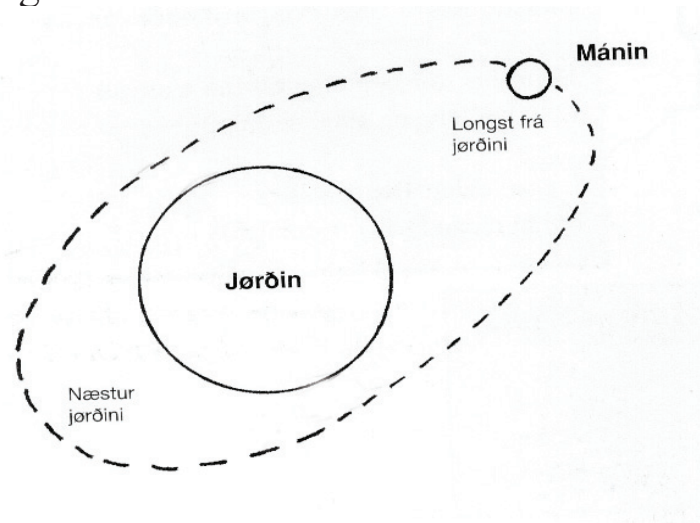
4. Hvussu eita hesir fiskarnir?



a) \_\_\_\_\_ b) \_\_\_\_\_ c) \_\_\_\_\_

# Jørðin

## 5. Svvara spurningunum.



1. Hvussu leingi tekur tað mánanum at mala einaferð kring jørðina?

---

2. Hvussu leingi tekur tað jørðini at mala einaferð um seg sjálva?

---

3. Hvussu leingi tekur tað jørðini at mala einaferð um sólina?

---

4. Hvat er tað, sum ávirkar havið, so vit fáa flóð og fjøru?

---

5. Hvussu eitur heiti streymurin kring Føroyar?

---

6. Hvussu eru Føroyar vorðnar til?

---

7. Hvat grótslag er mest av í Føroyum?

---

# Jarðfrøði

## 6. Set kross við rætt svar.

a) Hvør oyggj hellir mest?

Suðuroy

Mikines

Fugloy

b) Hvar í Føroyum verður kol høgt?

Hvalba

Nólsoy

Kalsoy

c) Hvussu nógvur basaltfláir eru í Føroyum?

Ein

Tríggjar

Tvær

d) Hvussu eitur hægsta fjall í Føroyum?

Oyrnafjall

Slættaratindur

Havnartindur



## At nýta heimatlas

7. Finn høvuðsstaðin og skriva navnið.

a) 48 C1 \_\_\_\_\_

25 G7 \_\_\_\_\_

48 A3 \_\_\_\_\_

48 B1 \_\_\_\_\_

45 H2 \_\_\_\_\_

b) Eru Føroyar eystan fyri Trinidat ja  nei

c) Hvørjar áir renna ígjøgnum hesar býir?

London: \_\_\_\_\_

París: \_\_\_\_\_

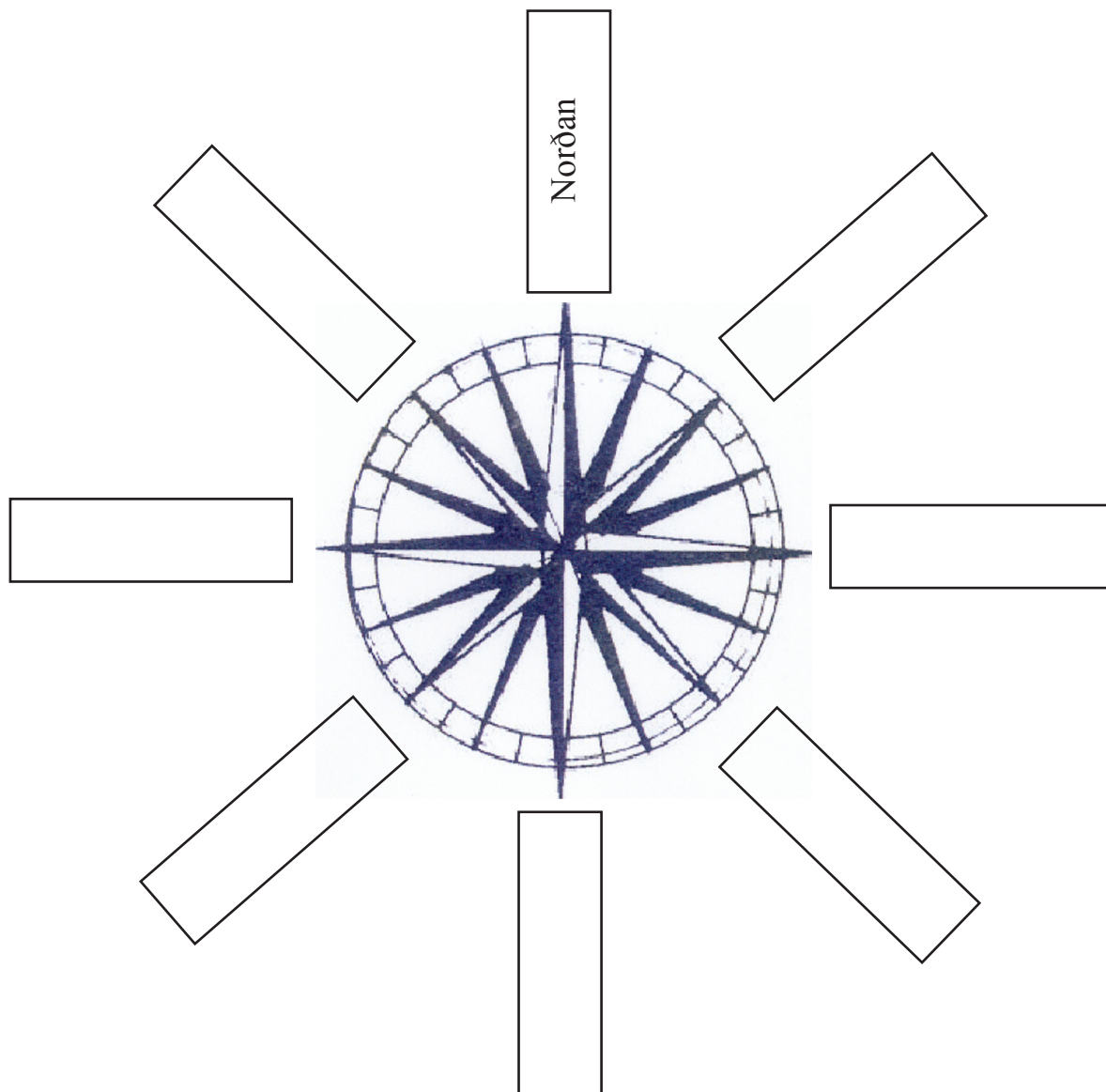
Wien: \_\_\_\_\_

d) Í hvørjum heimshavi liggur Avstralia?

\_\_\_\_\_

## Ættirnar

8. Skriva ættirnar í kassarnar.



## Alisfrøði

9. a) Hvat tól nýta vit til at máta elektriskan streym? \_\_\_\_\_
- b) Við hvørjum tóli máta vit elektriskan spenning? \_\_\_\_\_
- c) Hvørja orku nýta tit heima at hita hús tykkara? \_\_\_\_\_

# Vit og náttúran

## 10. Set kross við rætt svar.

- 1) Hvønn týdning hefur ozonlagið?
  - a) Verjir okkum fyri sólini?
  - b) Verjir okkum fyri mánanum?
  - c) Verjir okkum fyri stjornunum?
  
- 2) Hvønn týdning hefur lofthavið?
  - a) At vit fáa anda?
  - b) At jørðin er rund?
  - c) At vit ikki verða slongd út í rúmdina?
  
- 3) Nær dálka vit?
  - a) Tá vit blaka pappír í ruskílat?
  - b) Tá vit brenna bál?
  - c) Tá vit vaska súkkluna við køldum vatni?
  
- 4) Hvønn skaða ger súrt regn?
  - a) At vit fáa ikki anda?
  - b) At fiskar kunnu doyggja í vøtnum?
  - c) At luftin verður oyðiløgd?



Prent: Føroyaprent