

Náttúra og tækni

45 minuttir

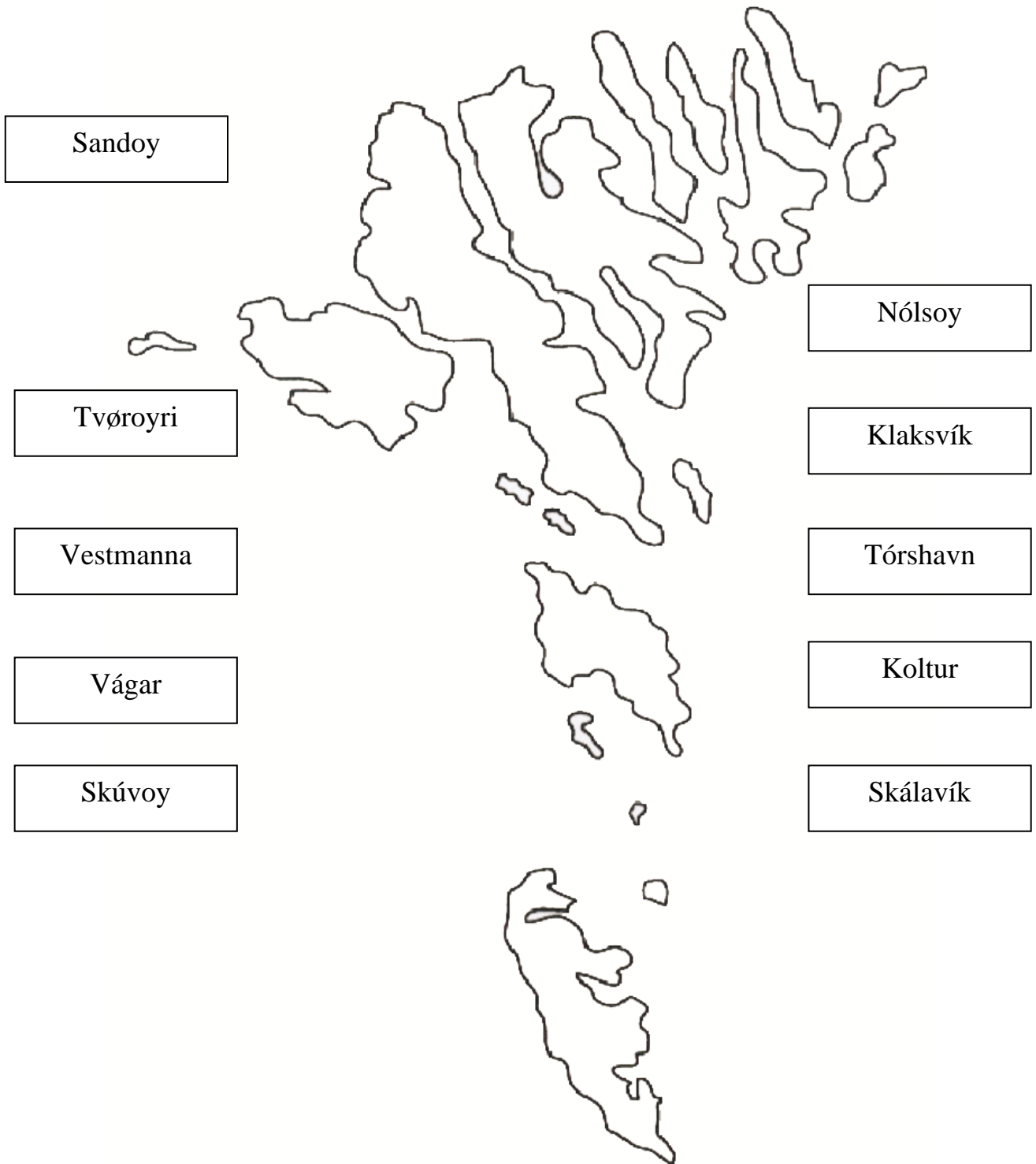


| | |
|-------|----------|
| Navn: | Flokkur: |
| Skúli | Lærari: |

Svarini verða skrivað á uppgávuarkið. Um það er ein uppgáva, sum tú ikki dugir, far so víðari.
Tú kanst skriva við blýanti.

Føroyar

1. Set píl frá navni til stað.



Norðurlond

2. Set striku millum flagg og land.



Hvat hava norðurlendsku fløggini til felag undantikið Grønland?

Svar: _____

Fuglar

3. Set striku til rætta navnið á fuglinum.



Lógv



Spógvi



Stari



Kráka



Terna



Tjaldur

Fiskar

4. Set striku til rætta navnið á fiskinum.



Makrelur



Hýsa



Toskur



Kalvi



Kongafiskur

Dýr í fjøruni og smákykt

5. Tekna strikur ímillum myndina og rætta navnið.



Krutt (ulka)



Lúsakrabbi



Eiturkoppur



Skolopendari



Fjørurkrabbi



Tvísterta

Plantur

6. Set striku frá mynd til rætta navnið.



Summardái



Mýrihoylús
(gloym meg ei)



Ljós blákolla



Mýrisólja
(tjóðarblóma okkara)



Jóansøku gøtubrá

Sansar

7. Set striku millum mynd og tekst.



Kips

Søtt



Vatn

Beiskt



Greypfrukt

Súrt



Bomm

Ongan smakk

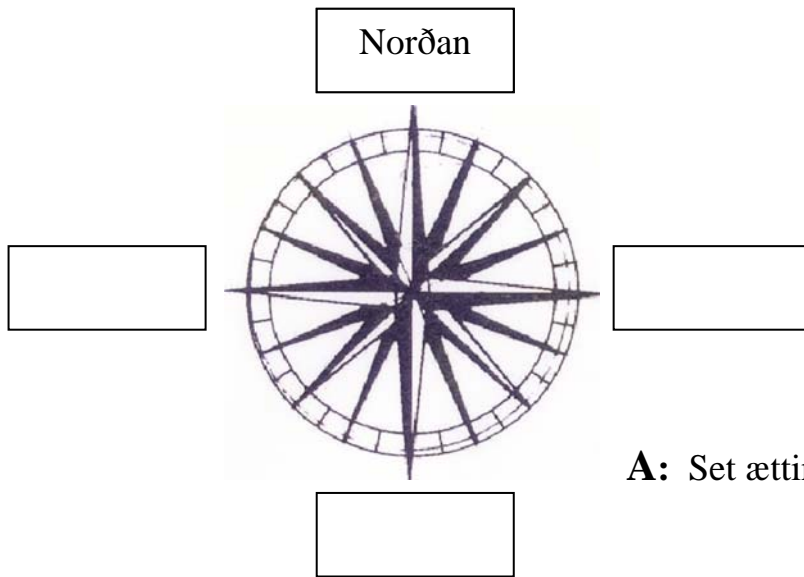


Sitrónir

Salt

Ættirnar

8.



A: Set ættirnar inn í kassarnar.



B: Eystasta oyggj í Føroyum. _____


C: Sunnasta oyggj í Føroyum. _____

D: Hvør býur er vestari, Klaksvík ella Tórshavn? _____

E: Hvør oyggj er norðast, Svínoy ella Viðoy? _____

Ellæra

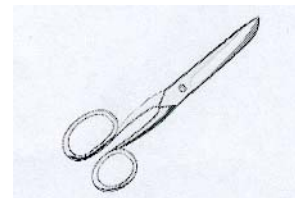
9. Hvörjir av hesum lutum leiða streym?



Seymur



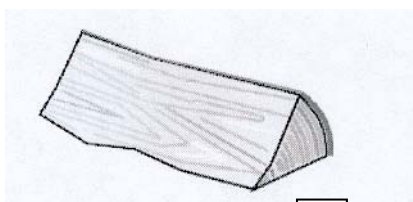
Jarn boltur



Saksur



Gummihandskar

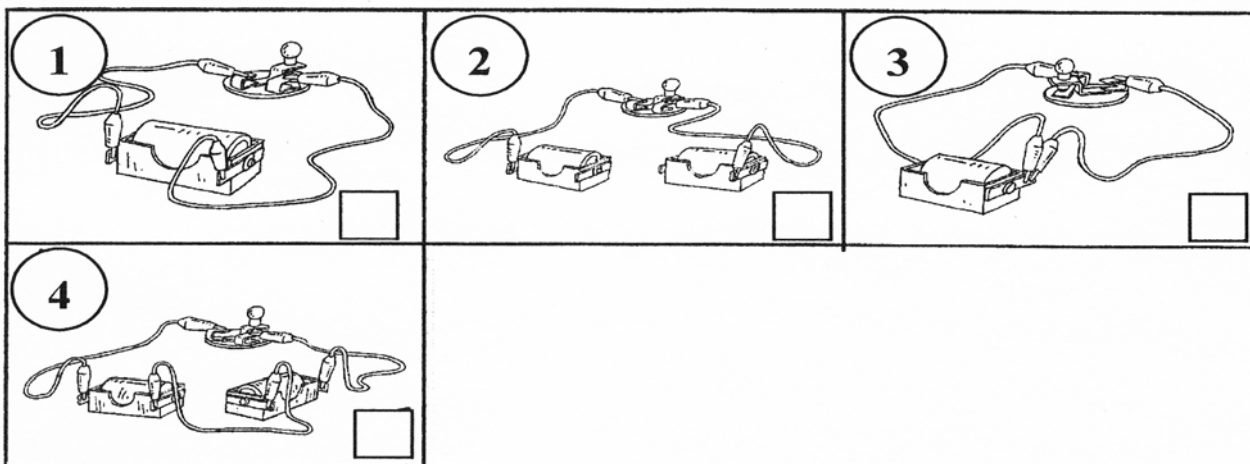


Træ



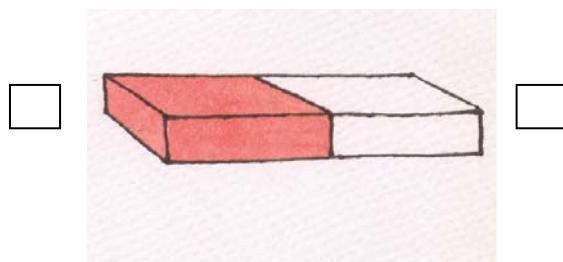
Vatn

10. Set kross í, har peran lýsir.

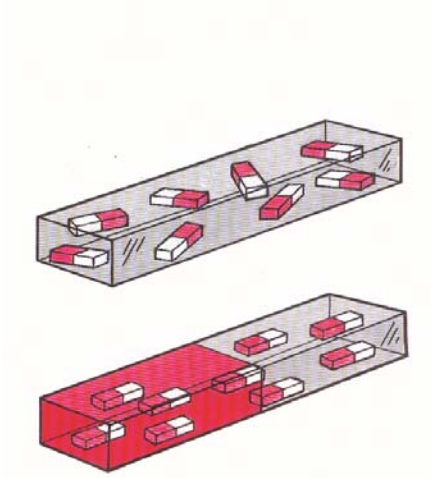


Magnetir

11) Set N við norðpól og S við suðurlpól.



12) Her eru tvey jarnpetti. Set kross við magnetina.



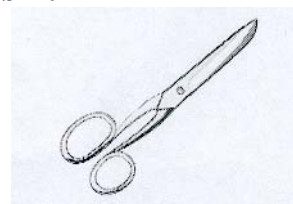
13) Set kross við teir lutir, sum magnetin klárar at draga til sín.



Seymur



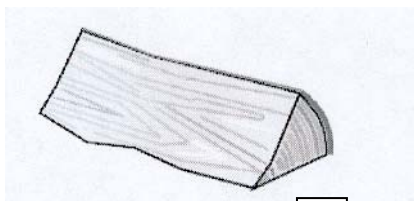
Jarn boltur



Saksur



Gummihandskar



Træ



Vatn



Prent: Føroyaprent